

# KONKURS

wiedzy  
o Podhalu, Tatrach  
i pasterstwie tatrzańskim



**Tatry to góry, które leżą na granicy dwóch państw:**

**Polski  
i Słowacji**

**Polski  
i Czech**

**Polski  
i Ukrainy**





**Tatry to góry, które leżą na granicy dwóch państw:**

**Polski  
i Słowacji**

**Polski  
i Czech**

**Polski  
i Ukrainy**





**Najwyższy szczyt  
polskich Tatr to:**

- 1. Giewont**
- 2. Kasprowy Wierch**
- 3. Rysy**





**Najwyższy szczyt  
polskich Tatr to:**

- 1. Giewont**
  - 2. Kasprowy Wierch**
  - 3. Rysy**
-





**Podaj nazwy widocznych  
na zdjęciach zwierząt i powiedz,  
które z nich żyje tylko w Tatrach.**



**niedźwiedź**



**świstak**



**dzik**

**Podaj nazwy widocznych  
na zdjęciach zwierząt i powiedz,  
które z nich żyje tylko w Tatrach.**





**Jak się nazywa gatunek krzewów iglastych rosnących w wyższych partiach Tatr?**





**kosodrzewina**

**Jak się nazywa gatunek krzewów iglastych rosnących w wyższych partiach Tatr?**





**TULIPAN**



**KROKUS**



**SZAROTKA**


**Przyporządkuj nazwy kwiatów do odpowiednich zdjęć i powiedz, który z nich nie rośnie w Tatrach.**



**SZAROTKA**



**TULIPAN**



**KROKUS**



**Przyporządkuj nazwy kwiatów do odpowiednich zdjęć i powiedz, który z nich nie rośnie w Tatrach.**





**Które miasto  
jest stolicą  
Podhala?**

- A. Nowy Targ**
- B. Zakopane**
- C. Rabka**





Które miasto  
jest stolicą  
Podhala?

- A. Nowy Targ
- B. Zakopane
- C. Rabka



A



B

**Która z widocznych na zdjęciach chałup to chałupa górali podhalańskich?**



C



A



**Która z widocznych  
na zdjęciach chałup  
to chałupa górali  
podhalańskich?**





Jaką nazwę nosi  
pomieszczenie  
widoczne na zdjęciu?

- A. Izba biała
- B. Izba czarna
- C. Izba szara





Jaką nazwę nosi  
pomieszczenie  
widoczne na zdjęciu?

- A. Izba biała
- B. Izba czarna
- C. Izba szara



A



B



C

Która z par ubrana jest w strój  
górali podhalańskich?





A



B



C

Która z par ubrana jest w strój  
górali podhalańskich?



A



B



C

Który z widocznych na zdjęciach elementów stroju góralskiego to cuha?





A



B




C



Który z widocznych na zdjęciach elementów stroju góralskiego to cuha?






**Prezentowane na zdjęciach hafty w kształcie serduszek wyszywane były na:**

**spódnicach**

**spodniach**

**chustach**





**Prezentowane na zdjęciach hafty w kształcie serduszek wyszywane były na:**

**spodniach**





**Wiosenny przepęd owiec  
ze wsi na halę to:**





**Wiosenny przepęd owiec  
ze wsi na halę to:**

**Redyk**





**Najbardziej  
doświadczony pasterz  
kierujący wypasem owiec  
i wyrobem serów to:**

- A. Juhas**
- B. Baca**
- C. Honielnik**





**Najbardziej  
doświadczony pasterz  
kierujący wypasem owiec  
i wyrobem serów to:**

**A. Juhas**

**B. Baca**

**C. Honielnik**

**Widoczne obok naczynia do nabierania mleka noszą nazwę:**

- 1. Kubki**
- 2. Czerpaki**
- 3. Ferule**





**Widoczne obok naczynia do nabierania  
mleka noszą nazwę:**



**2. Czerpaki**

# Žentyca to:

Žona bacy



Serwatka z owczego  
sfermentowanego mleka



Szczyt tatrzański





# Żentyca to:

Serwatka z owczego  
sfermentowanego mleka



**Bryła twarogu owczego z którego wyrabia się oscypki to:**



- A. Bryndza**
- B. Watra**
- C. Bundz**



**Bryła twarogu owczego z którego wyrabia się oscypki to:**



- A. Bryndza**
- B. Watra**
- C. Bundz**



Jaką nazwę noszą  
serki takie jak ten  
widoczny na zdjęciu?

- A. Gołki
- B. Redykołki
- C. Bruski





Jaką nazwę noszą  
serki takie jak ten  
widoczny na zdjęciu?

A. Gołki

B. Redykołki

C. Bruski



owca

kogut

koza

Ten tradycyjny instrument góralski nosi taką samą nazwę jak jedno ze zwierząt gospodarskich, wybierz tę właściwą.





owca

kogut

koza

Ten tradycyjny instrument góralski nosi taką samą nazwę jak jedno ze zwierząt gospodarskich, wybierz tę właściwą.