



Konkurs historyczny
dla dzieci w wieku 10-15 lat

Piastowie i ich dziedzictwo

Muzeum Archeologiczne i Etnograficzne w Łodzi

Pytanie 1

Jakie imiona noszą bracia pokazani na ilustracji?



Pytanie 1

Jakie imiona noszą bracia pokazani na ilustracji?



Lech,
Czech
i Rus

Pytanie 2

Którego legendarnego władcę Polan
zjadły myszy?



Kruszwica

Pytanie 2

Którego legendarnego władcę Polan
zjadły myszy?



Popiela



Kruszwica

Pytanie 3

Uzupełnij tekst.



Skoro więc urządono zwyczajową ucztę i pod dostatkiem przyrządzono wszystkiego, goście owi postrzygli chłopca i nadali mu imię na wróżbę przyszłych losów.

Pytanie 3

Uzupełnij tekst.



Skoro więc urządzono zwyczajową ucztę i pod dostatkiem przyrządzono wszystkiego, goście owi postrzygli chłopca i nadali mu imię ..Siemowita.. na wróżbę przyszłych losów.

Pytanie 4

Spośród wymienionych imion wskaż te, które należą do bóstw słowiańskich.

Ozyrys

Światowid

Dagda

Thor

Perun

Artemida

Swarożyc

Prometeusz



Pytanie 4

Spośród wymienionych imion wskaż te, które należą do bóstw słowiańskich.

Światowid

Perun

Swarożyc



Pytanie 5

W opisie postaci św. Wojciecha podkreśl właściwe odpowiedzi.



Święty Wojciech był: księciem
wojownikiem
biskupem

Wywodził się z rodu Sławnikowiców
i pochodził z:

Czech
Rusi
Saksonii

Zginął w trakcie misji chrystianizacyjnej
na ziemiach pogańskich:

Wioletów
Prusów
Wiślan

Pytanie 5

W opisie postaci św. Wojciecha podkreśl właściwe odpowiedzi.



Święty Wojciech był: księciem
wojownikiem
biskupem

Wywodził się z rodu Sławnikowiców
i pochodził z:

Czech

Rusi

Saksonii

Zginął w trakcie misji chrystianizacyjnej
na ziemiach pogańskich:


Wioletów

Prusów

Wiślan

Pytanie 6

Wskaż na rysunku mężczyznę, który wykonuje inne czynności niż kowalskie.



Pytanie 6

Wskaż na rysunku mężczyznę, który wykonuje inne czynności niż kowalskie.



Pytanie 7

Wskaż na mapie te miasta, które pełniły lub pełnią funkcje stołeczne.



Pytanie 7

Wskaż na mapie te miasta, które pełniły lub pełnią funkcje stołeczne.



Pytanie 8

Połącz te postacie w odpowiednie pary.

Mieszko I

Rycheza

Mieszko II

Oda

Bolesław Chrobry

Dobrawa

Pytanie 8

Połącz te postacie w odpowiednie pary.

Mieszko I

Dobrawa

Mieszko II

Rycheza

Bolesław Chrobry

Oda

Pytanie 9

Ustaw pokazane wydarzenia w kolejności od najstarszego i podaj ich daty.



Zjazd Gnieźnieński



Przyjęcie chrztu



Bitwa pod Cedynią

Pytanie 9

Ustaw pokazane wydarzenia w kolejności od najstarszego i podaj ich daty.



Przyjęcie chrztu

966



Bitwa pod Cedynią

972



Zjazd Gnieźnieński

1000

Pytanie 10

Jakie pokrewieństwo łączyło przedstawione pary?



Bolesław Śmiały
i Władysław Herman

Władysław Wygnaniec
i Bolesław Kędzierzawy



Władysław Łokietek
i Kazimierz Wielki

Pytanie 10

Jakie pokrewieństwo łączyło przedstawione pary?




Bolesław Śmiały
i Władysław Herman

bracia

Władysław Wygnaniec
i Bolesław Kędzierzawy



bracia



Władysław Łokietek
i Kazimierz Wielki

ojciec i syn

Pytanie 11

Połącz imiona biskupów z odpowiednimi miastami.

Biskup Jordan

Biskup Wojciech

Biskup Stanisław ze Szczepanowa



**Polska w czasach
Mieszka I**

Pytanie 11

Połącz imiona biskupów z odpowiednimi miastami.

Biskup Jordan

Biskup Wojciech

Biskup Stanisław ze Szczepanowa



Polska w czasach Mieszka I

Pytanie 12 Każdą z postaci wrzuć do odpowiedniego worka.

Kazimierz Wielki

Bolesław Krzywousty

Bolesław Chrobry

Jadwiga Andegaweńska

Św. Wojciech

Władysław Jagiełło

Salomea z Bergu

Gall Anonim

Otton III




X wiek

XII wiek

XIV wiek

Pytanie 12 Każdą z postaci wrzuć do odpowiedniego worka.



Pytanie 13 Przypisz do wymienionych postaci odpowiednie wydarzenie.

Konrad mazowiecki

Kazimierz Wielki

bitwa pod Grunwaldem

założenie Uniwersytetu Jagiellońskiego

sprowadzenie Krzyżaków do Polski

śmierć św. Stanisława

Pytanie 13 Przypisz do wymienionych postaci odpowiednie wydarzenie.

Konrad mazowiecki

srowadzenie Krzyżaków do Polski

Kazimierz Wielki

założenie Uniwersytetu Jagiellońskiego

bitwa pod Grunwaldem

śmierć św. Stanisława

Pytanie 14

Na tabelę poniżej wylał się tusz. Ustal jaki tekst znajduje się pod kleksami.



DATA	MIEJSCE BITWY	WŁADCA	PRZECIWNIK
972	Cedynia	Mieszko I	Wielki Knyaz Litwy
1241	Legnica	Henryk I	Mongołowie
1331	Żelazowa Góra	Władysław Łokietek	Zakon krzyżacki

Pytanie 14

Na tabelę poniżej wylał się tusz. Ustal jaki tekst znajduje się pod kleksami.



DATA	MIEJSCE BITWY	WŁADCA	PRZECIWNIK
972	Cedynia	Mieszko I	Niemcy
1241	Legnica	Henryk Pobożny	Mongołowie
1331	Płowce	Władysław Łokietek	Zakon krzyżacki

Pytanie 15

Który z pokazanych kościołów jest zbudowany w stylu romańskim?



Pytanie 15

Który z pokazanych kościołów jest zbudowany w stylu romańskim?



Styl gotycki



Styl romański



Styl barokowy